



- 7 Juan y Ema dibujaron figuras 3D formadas por cubitos en papel isométrico.

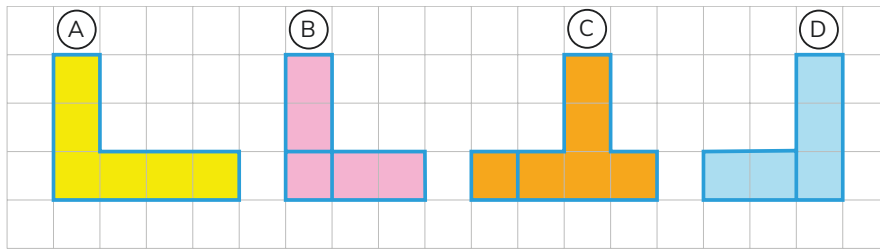
Dibujo de Juan




Dibujo de Ema



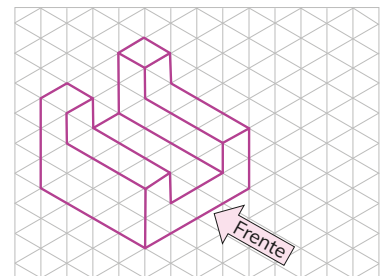
¿A cuál de las figuras anteriores corresponden las siguientes vistas?



El **papel isométrico** ayuda a representar algunas figuras 3D. Este tipo de papel está formado por triángulos de lados iguales y ángulos de 60° .



- 8 En la siguiente figura 3D está indicado el frente:



De las siguientes vistas, selecciona cuál es la vista de frente, la del lado izquierdo, la del lado derecho, la de arriba, la de abajo y la de atrás.

