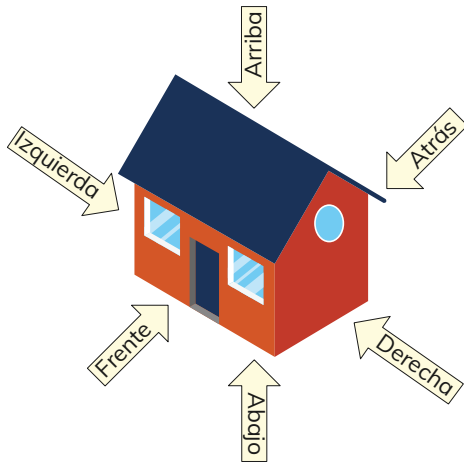




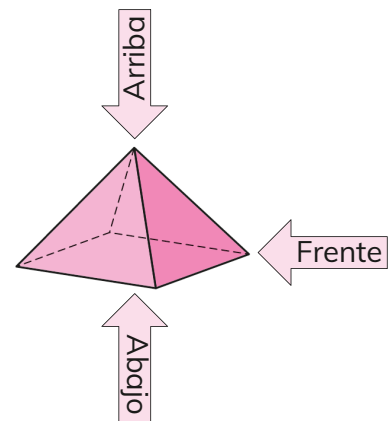
Las **vistas** son figuras 2D que nos ayudan a entender las figuras 3D. Usualmente se consideran 6 vistas: frente, atrás, derecha, izquierda, arriba y abajo.



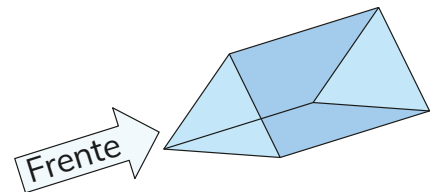
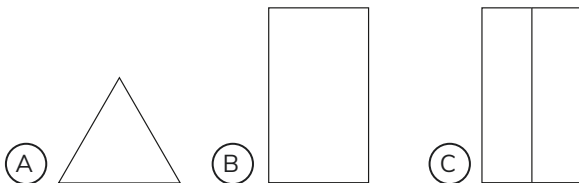
Una vez que me dicen cuál es el frente, las otras vistas quedan determinadas.



- 2 Observa la imagen de la pirámide. ¿A qué figuras corresponden las vistas indicadas?



- 3 Indica qué figuras corresponden a las vistas de arriba, abajo y de atrás.



- 4 ¿A cuál o cuáles de las figuras 3D corresponden las siguientes vistas?

Vistas



Figuras 3D

