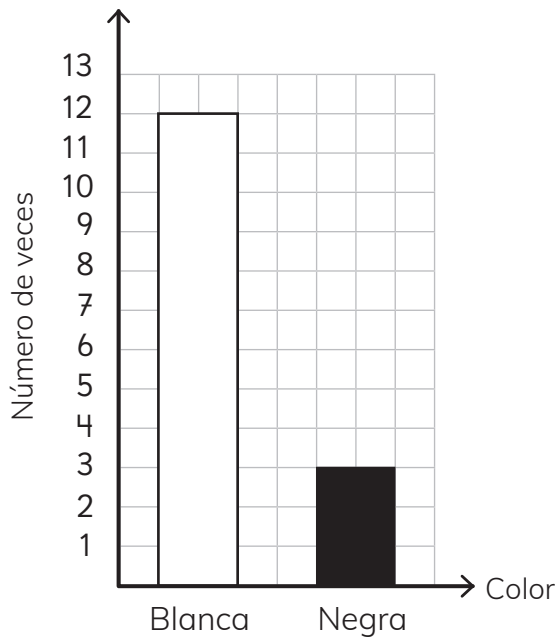
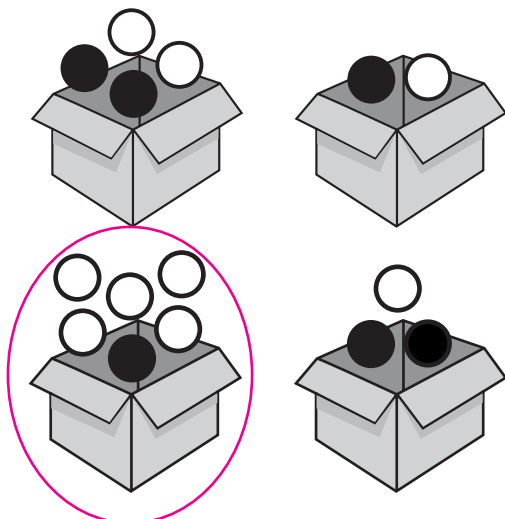


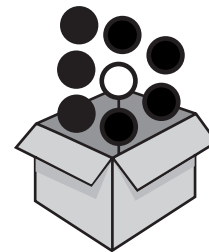
- 1** Unos estudiantes realizaron un experimento. Sacaron al azar y volvieron a poner varias veces una pelota en una caja. Hicieron el siguiente gráfico:



- a) ¿Cuántas veces sacaron una pelota de la caja? **15 veces.**
- b) ¿Cuál podría ser la caja con las pelotas que usaron?



- 2** Unos estudiantes realizaron un experimento. Sacaron al azar y volvieron a poner 15 veces una pelota en una caja. Utilizaron esta caja con estas pelotas:



¿Cuál podría ser el gráfico del experimento?

