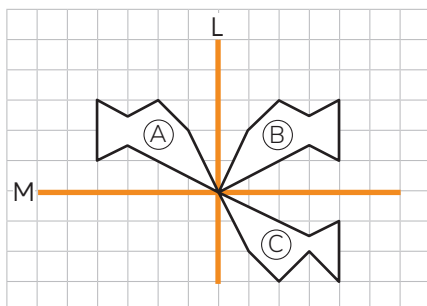


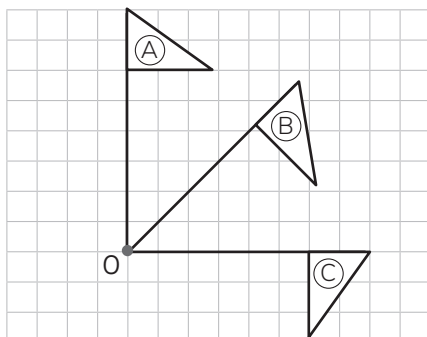
1 Observa y responde.



- a) Al reflejar la figura (A) con respecto al eje L se obtiene la figura **B**.
- b) Al reflejar la figura (B) con respecto al eje M se obtiene la figura **C**.
- c) ¿Qué transformación lleva directamente la figura (A) a la (C)?

Rotación de 180°.

2 Observa y responde.

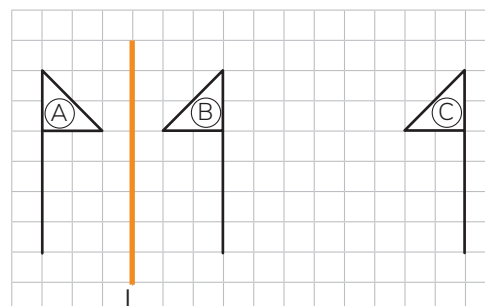


- a) Al rotar 45° en sentido horario la figura (A) alrededor del punto O se obtiene la figura **B**.

- b) Al rotar 45° en sentido horario la figura (B) alrededor del punto O se obtiene la figura **C**.
- c) ¿Qué transformación lleva directamente la figura (A) a la (C)?

Rotación de 90° en sentido horario.

3 Observa y responde.



- a) Al reflejar la figura (A) con respecto al eje L se obtiene la figura **B**.
- b) Al trasladar 8 unidades hacia la derecha la figura (B) se obtiene la figura **C**.
- c) ¿Qué transformación lleva directamente la figura (A) a la (C)?

Una reflexión.