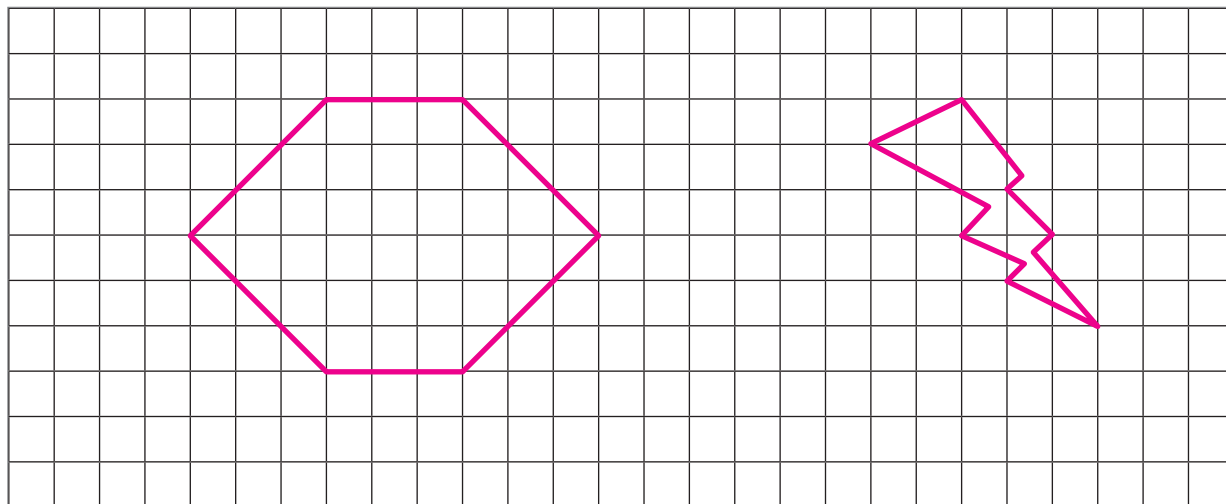
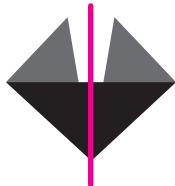


- 1** Dibuja una figura que no sea simétrica y otra que sí lo sea.



- 2** Marca la o las líneas de simetría de las siguientes figuras:

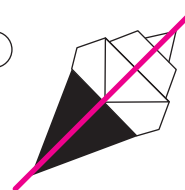
(a)



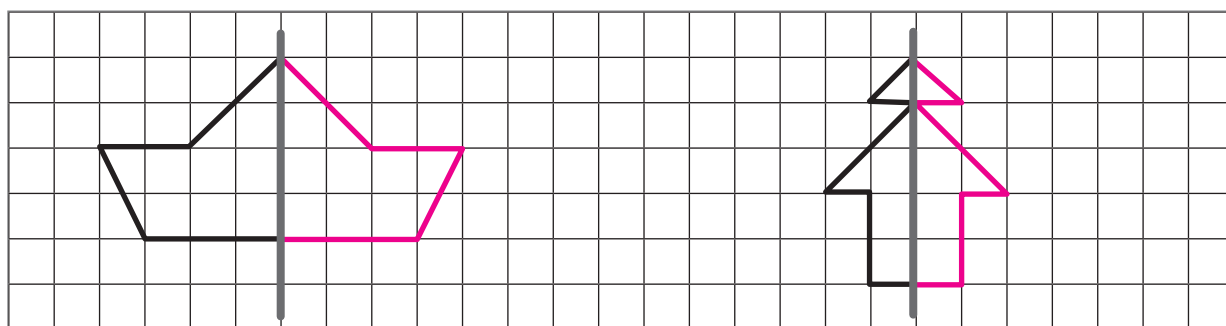
(b)



(c)



- 3** A continuación, se muestran mitades de figuras y su línea de simetría. Dibuja la otra mitad para completar cada figura. ¿Qué figura formas?



- 4** ¿La siguiente figura, tiene marcada su línea de simetría? Justifica.

No, ya que al doblarla por dicha línea no coincide la figura.

