



**1** Escribe el número.

(a) Cuatro centésimos.

0,04

(b) Nueve enteros y siete centésimos.

9,07

(c) Dos enteros y veinticuatro centésimos.

2,24

(d) Sesenta y tres centésimos.

0,63

**2** Escribe cómo se leen.

(a) 0,06 Seis centésimos.

(b) 0,6 Seis décimos.

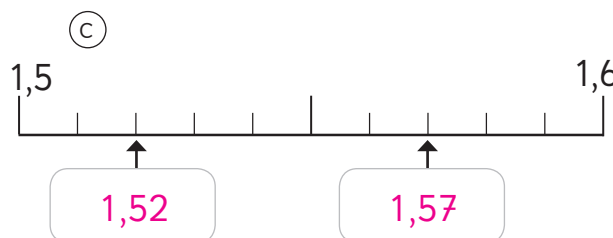
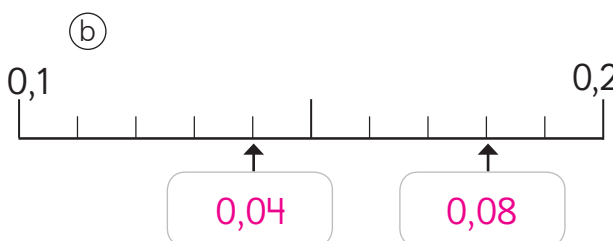
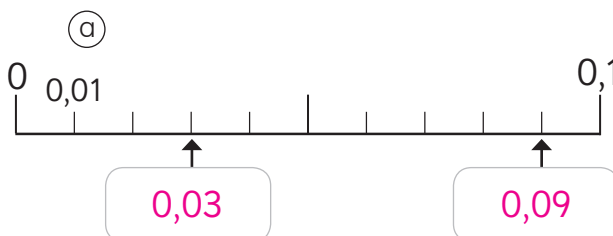
(c) 1,06 Un entero y seis centésimos.

(d) 6,32 Seis enteros y treinta y dos centésimos.

(e) 4,09 Cuatro enteros y nueve centésimos.

(f) 4,9 Cuatro enteros y nueve décimos.

**3** Escribe los números que indican las flechas.



**4** Escribe los números que faltan.

(a)  $5,65 = 5 + 0,6 + 0,05$

(b)  $0,75 = 0,7 + 0,05$

(c)  $4,05 = 4 + 0,05$

(d)  $2,18 = 2 + 0,1 + 0,08$

(e)  $4,99 = 4 + 0,9 + 0,09$