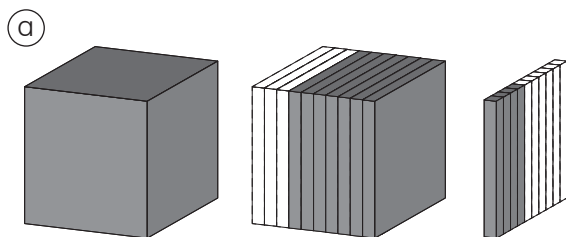
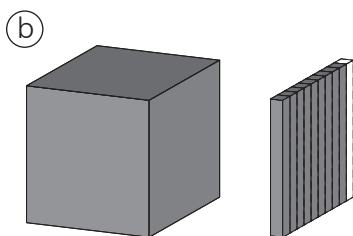


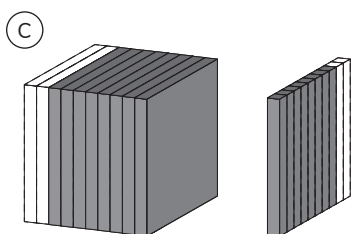
**1** Escribe el número decimal que representa la parte pintada.



| Unidad | décimo         | centésimo       |
|--------|----------------|-----------------|
| 1      | $\frac{1}{10}$ | $\frac{1}{100}$ |
| 1      | 7              | 4               |



| Unidad | décimo         | centésimo       |
|--------|----------------|-----------------|
| 1      | $\frac{1}{10}$ | $\frac{1}{100}$ |
| 1      | 0              | 9               |



| Unidad | décimo         | centésimo       |
|--------|----------------|-----------------|
| 1      | $\frac{1}{10}$ | $\frac{1}{100}$ |
| 0      | 8              | 8               |

**2** Escribe cómo se leen.

(a)

| Unidad | décimo         | centésimo       |
|--------|----------------|-----------------|
| 1      | $\frac{1}{10}$ | $\frac{1}{100}$ |
| 0      | 0              | 7               |

Siete centésimos.

(b)

| Unidad | décimo         | centésimo       |
|--------|----------------|-----------------|
| 1      | $\frac{1}{10}$ | $\frac{1}{100}$ |
| 0      | 4              | 3               |

Cuarenta y tres centésimos.

(c)

| Unidad | décimo         | centésimo       |
|--------|----------------|-----------------|
| 1      | $\frac{1}{10}$ | $\frac{1}{100}$ |
| 2      | 3              | 3               |

En enteros y centésimos:

Dos enteros y treinta y tres centésimos.

En centésimos:

Doscientos treinta y tres centésimos.

(d)

| Unidad | décimo         | centésimo       |
|--------|----------------|-----------------|
| 1      | $\frac{1}{10}$ | $\frac{1}{100}$ |
| 9      | 0              | 8               |

En enteros y centésimos:

Nueve enteros y ocho centésimos.

En centésimos:

Novecientos ocho centésimos.