

1 Escribe el número decimal.

(a) Siete décimos.

Decena	Unidad	décimo
10	1	$\frac{1}{10}$
	0	7

0,7

(b) Dos enteros y cinco décimos.

Decena	Unidad	décimo
10	1	$\frac{1}{10}$
	2	5

2,5

(c) Quince enteros y nueve décimos.

Decena	Unidad	décimo
10	1	$\frac{1}{10}$
1	5	9

15,9

(d) Trece décimos.

Decena	Unidad	décimo
10	1	$\frac{1}{10}$
	1	3

1,3

(e) Veinticinco décimos.

Decena	Unidad	décimo
10	1	$\frac{1}{10}$
	2	5

2,5

2 Escribe el número.

(a) Nueve enteros y siete décimos.

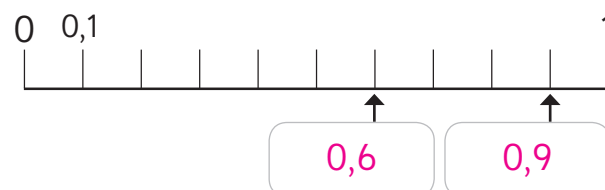
9,7

(b) Sesenta y tres décimos.

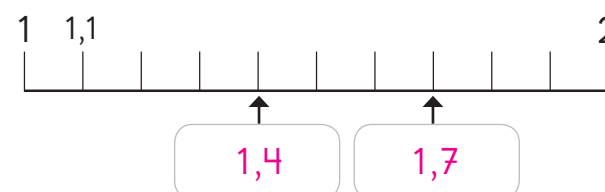
6,3

3 Escribe los números que indican las flechas.


(a)



(b)



(c)



(d)

