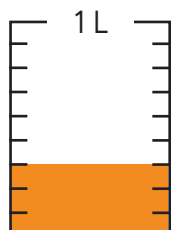



- 1** Escribe la fracción que representa la cantidad de líquido.



Hay  $\frac{3}{9}$  L.

- 2** Escribe la fracción que representa la parte de los maceteros que tienen plantas.



$\frac{2}{6}$  del total de maceteros tienen plantas.

- 3** Ordena de menor a mayor las siguientes fracciones:

$\frac{1}{12}$     $\frac{9}{12}$     $\frac{3}{12}$     $\frac{11}{12}$

$\frac{1}{12}$

menor

$\frac{3}{12}$


$\frac{9}{12}$

$\frac{11}{12}$

mayor

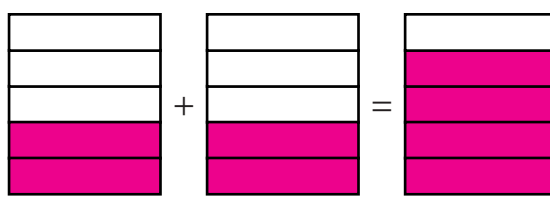
- 4** Representa y calcula.

(a)



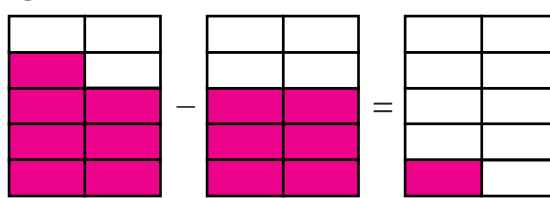
$$\frac{1}{4} + \frac{2}{4} = \frac{3}{4}$$

(b)



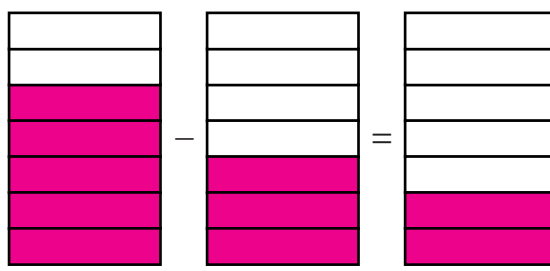
$$\frac{2}{5} + \frac{2}{5} = \frac{4}{5}$$

(c)



$$\frac{7}{10} - \frac{6}{10} = \frac{1}{10}$$

(d)



$$\frac{5}{7} - \frac{3}{7} = \frac{2}{7}$$