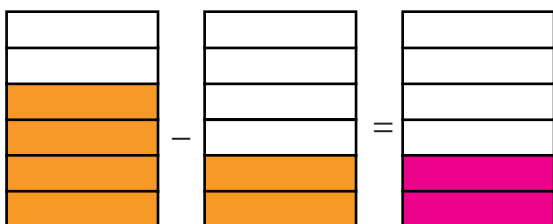


1 Representa el resultado.

(a)




(b)



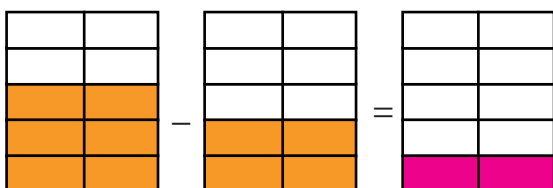
(c)



(d)



(e)



2 Calcula.

(a) $\frac{4}{5} - \frac{2}{5} = \frac{2}{5}$

(b) $\frac{6}{7} - \frac{2}{7} = \frac{4}{7}$

(c) $\frac{8}{10} - \frac{1}{10} = \frac{7}{10}$

(d) $\frac{5}{6} - \frac{2}{6} = \frac{3}{6}$

(e) $\frac{11}{12} - \frac{5}{12} = \frac{6}{12}$

(f) $\frac{3}{4} - \frac{1}{4} = \frac{2}{4}$

(g) $\frac{2}{3} - \frac{1}{3} = \frac{1}{3}$

(h) $\frac{7}{12} - \frac{3}{12} = \frac{4}{12}$

3 Tengo $\frac{7}{8}$ m de cinta roja y $\frac{5}{8}$ m de cinta verde. ¿De cuál cinta tengo más metros?, ¿cuántos más?

Expresión: $\frac{7}{8} + \frac{5}{8}$

Respuesta: Tengo más cinta roja.
 $\frac{2}{8}$ de cinta más.