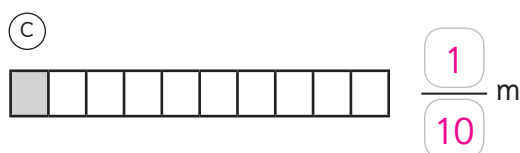
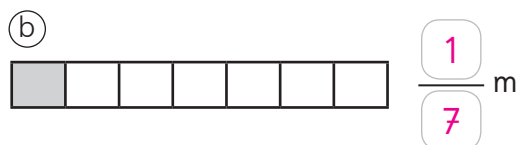
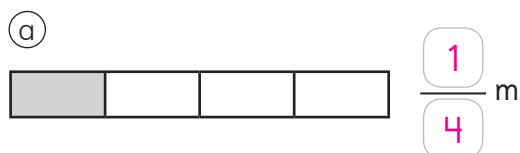
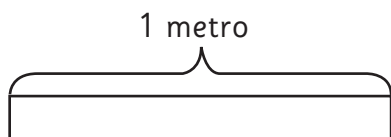
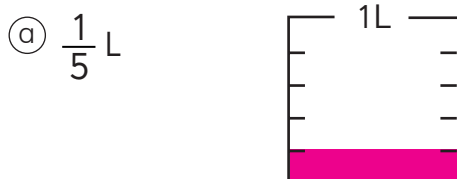


- 1** Cada cinta mide 1 m.  
Escribe la fracción que  
representa la parte pintada.



- 2** Representa las cantidades que  
se indican.



- 3** Escribe cómo se lee  
cada fracción.

(a)  $\frac{4}{6}$  **Cuatro sextos.**

(b)  $\frac{3}{9}$  **Tres novenos.**

(c)  $\frac{7}{8}$  **Siete octavos.**

(d)  $\frac{9}{10}$  **Nueve décimos.**

- 4** Escribe la fracción que se indica.

(a) Ocho doceavos.  $\frac{8}{12}$

(b) Tres quintos.  $\frac{3}{5}$

(c) Cinco sextos.  $\frac{5}{6}$