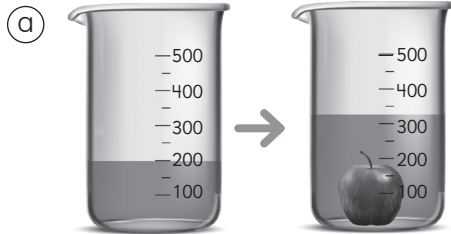
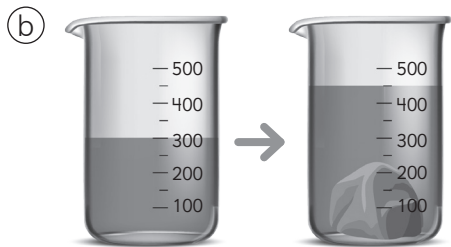


- 1** Estima el volumen de los objetos. Considera que las marcas del frasco indican el volumen en cubos de 1 cm de arista.

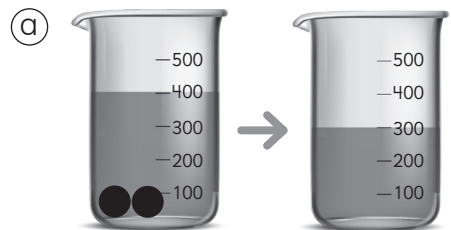


El volumen de la manzana es aproximadamente **125** unidades de cubo de 1 cm de arista.

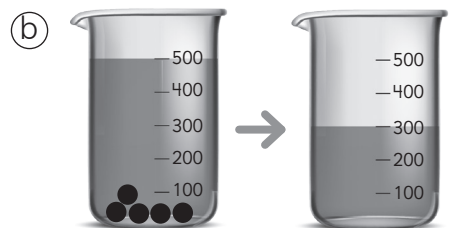


El volumen de la piedra es aproximadamente **150** unidades de cubo de 1 cm de arista.

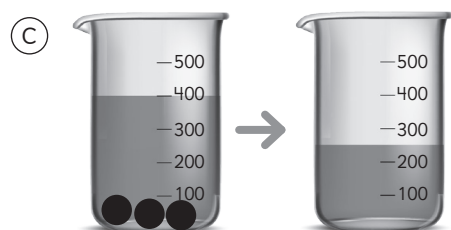
- 2** Estima el volumen de la bolita en cada caso. Considera que entre dos marcas del recipiente hay un volumen de 100 unidades de cubo de 1 cm.



● mide **50** cubos de 1 cm de arista.



● mide **40** cubos de 1 cm de arista.



● mide **50** cubos de 1 cm de arista.