

# Capítulo 12: Volumen

Comparando cantidades



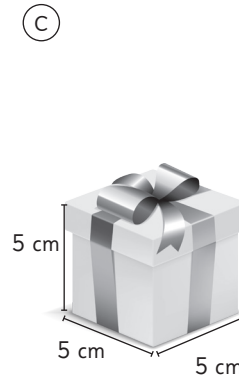
- 1 Para cada caso, estima cuántas cajas se necesitan para completar un litro.



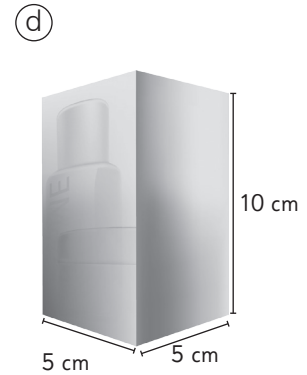
5 cajas



4 cajas




8 cajas




4 cajas


- 2 Si el volumen de 4 cajas es un cubo de 1 m de arista, determina el volumen de las cajas apiladas.



$6 \frac{3}{4}$  cubos de arista 1 m.



10 cubos de arista 1 m.



30 cubos de arista 1 m.



$4 \frac{1}{2}$  cubos de arista 1 m.