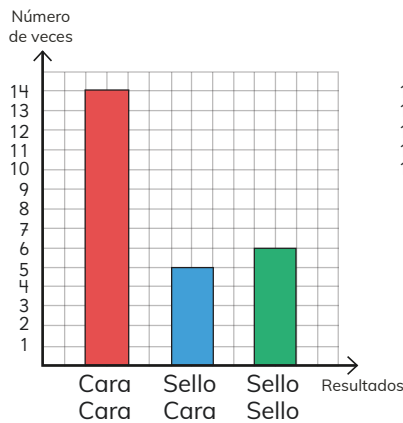
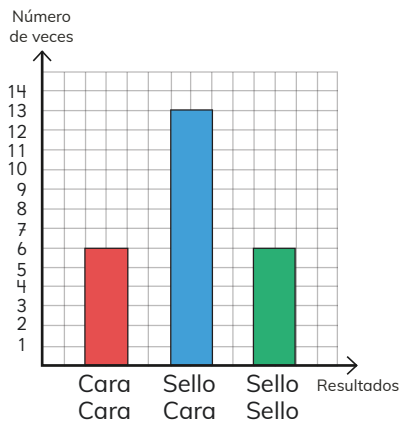


- 5 Sofía y Sebastián realizaron un experimento. Lanzaron 25 veces dos monedas al aire y registraron los resultados.




¿Cuál de estos puede ser el gráfico del experimento? Justifica.



EJERCITA

- 1 Se lanzan dos dados 20 veces y se registra si los números son iguales o no.

Dados con números distintos



Dados con números iguales



- a Da un pronóstico de la cantidad de veces que crees que saldrán números iguales y distintos.
- b Realicen el experimento. Compartan qué estudiante dio un pronóstico más cercano a los resultados del experimento.