

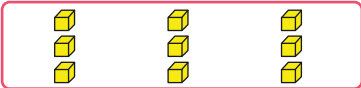

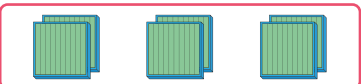
Multiplicación entre números de tres dígitos y números de un dígito

- 3 Juan dio 3 vueltas a un camino que tiene 213 m. ¿Cuántos metros corrió en total?





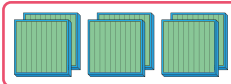
- a ¿Cuál es la expresión matemática?
b ¿Cómo la calcularías?

Usando la descomposición

	$3 \cdot 3$	$3 \cdot 213$ <div style="display: inline-block; vertical-align: middle;"> $\begin{array}{r} \nearrow 3 \cdot 3 = 9 \\ \rightarrow 3 \cdot 10 = 30 \\ \searrow 3 \cdot 200 = 600 \end{array}$ </div>
	$3 \cdot 10$	
	$3 \cdot 200$	

Total	?
-------	---

Usando el algoritmo

Unidades	Decenas	Centenas
$\begin{array}{r} 213 \cdot 3 \\ \hline 9 \end{array}$ 	$\begin{array}{r} 213 \cdot 3 \\ \hline 39 \end{array}$ 	$\begin{array}{r} 213 \cdot 3 \\ \hline ?39 \end{array}$ 

EJERCITA

- 1 Multiplica usando el algoritmo.

a $142 \cdot 2$ b $423 \cdot 2$ c $312 \cdot 3$ d $121 \cdot 4$