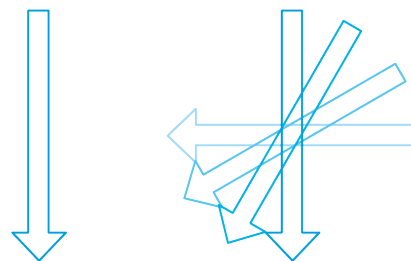
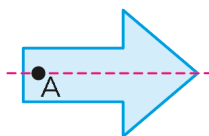


3 La figura fue rotada en 30° , 60° y 90° .

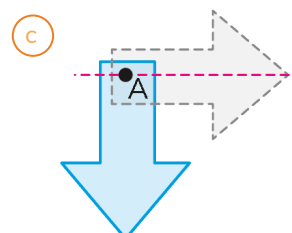
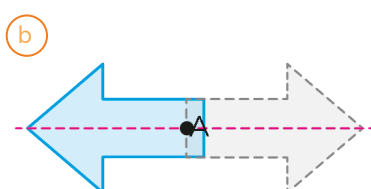
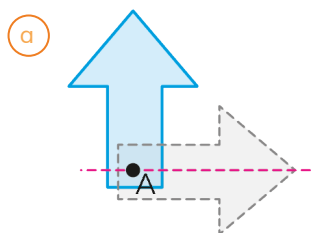
- a ¿Dónde está el punto de rotación?
- b ¿En qué sentido se rotó?



4 La flecha celeste fue rotada.



Indica el ángulo y sentido de la rotación en cada caso.



EJERCITA

1 Las siguientes figuras se obtuvieron al girar la figura original respecto al punto O, en sentido horario.

¿Cuántos grados se han girado?

