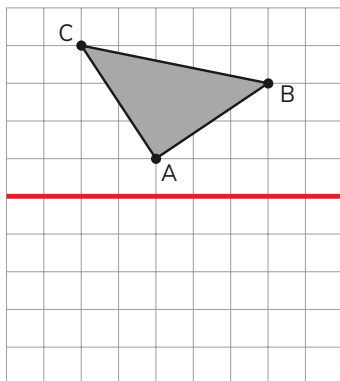
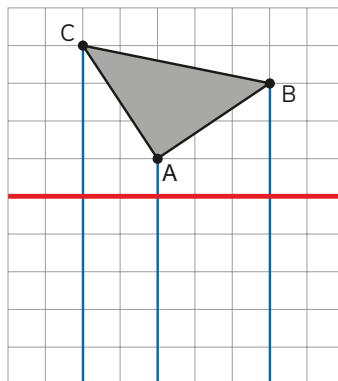


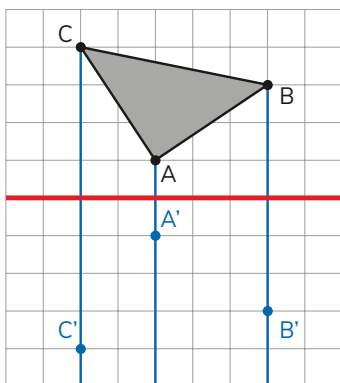
Cómo reflejar una figura formada por líneas rectas



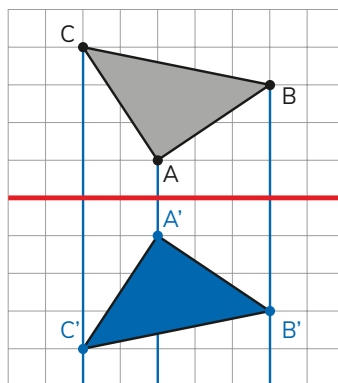
Marco y nombro los vértices.



Trazo rectas por los vértices y que formen ángulos rectos con el eje de reflexión.



Para cada vértice, dibujo su reflejado del otro lado del eje y la misma distancia.



Nombro los vértices y los uno en el mismo orden.

Yo me fijo en la ubicación de un vértice y luego doy vuelta la figura.

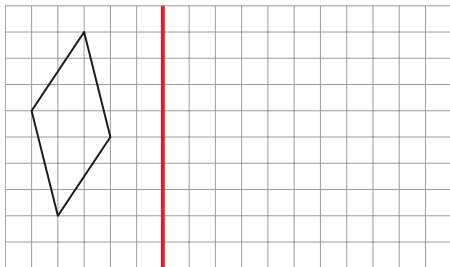


4 Refleja las figuras con respecto al eje indicado.

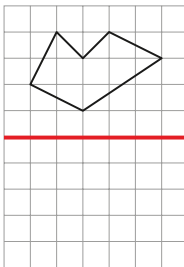
Responde en el Cuaderno de Actividades página 59 • Tomo 2



(A)



(B)



(C)

