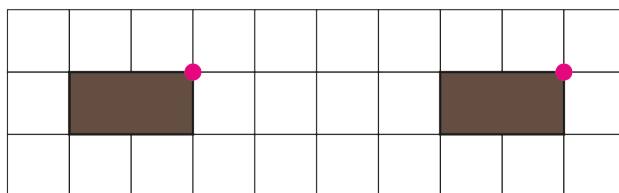


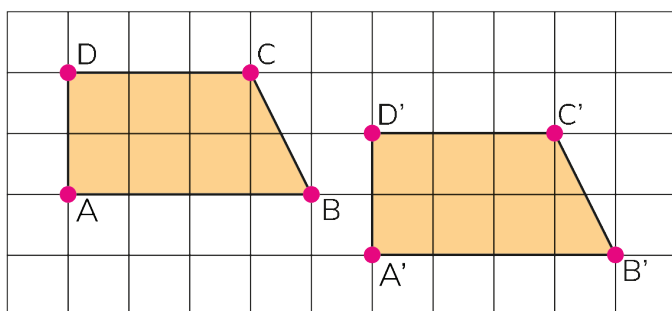


Trasladar una figura en el plano es moverla, sin girarla, conservando su forma y tamaño.
En una traslación, todos los puntos se mueven la misma distancia y en la misma dirección.

- 2 Sofía pregunta si el rectángulo café se trasladó 4 o 6 unidades a la derecha. Argumenta.



- 3 Describe la traslación de la figura ABCD a la posición A'B'C'D'. Compara tu descripción con la de tus compañeros.

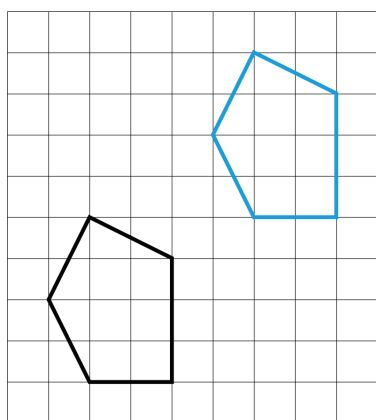


Es usual nombrar cada vértice de la figura trasladada con la misma letra del punto original pero con una pequeña rayita encima, llamada "prima".

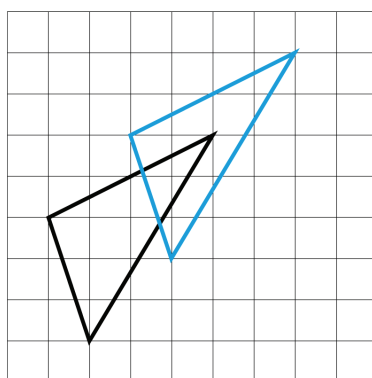


- 4 Indica en cuál o cuáles de los siguientes casos se realizó una traslación:

(A)



(B)



(C)

