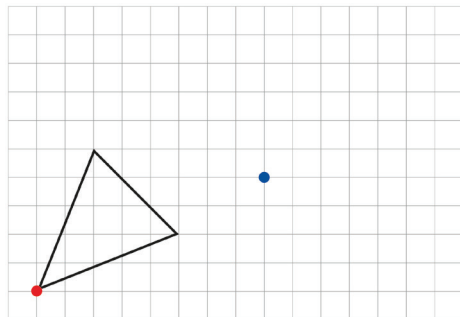


Traslación

- 1 Sofía, Matías y Sami quieren trasladar el triángulo de la cuadrícula, de manera que el vértice marcado en rojo corresponda al punto azul.

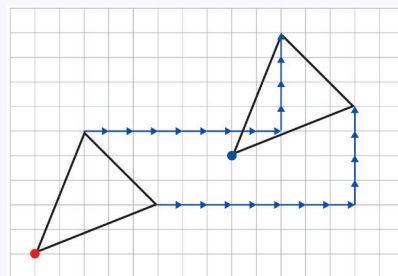
¿De qué manera podrían hacer esto?



Idea de Sami

Para llevar el vértice rojo al punto azul, vi que había que trasladarlo 8 unidades a la derecha y 4 hacia arriba.

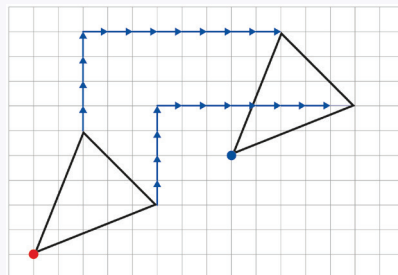
Luego, trasladé los otros dos vértices de la misma manera y los uní para formar el triángulo.



Idea de Matías

Para trasladar el vértice rojo al punto azul, vi que había que moverlo 4 unidades hacia arriba y 8 a la derecha.

Trasladé los otros vértices de igual manera y los uní para formar el triángulo.



Idea de Sofía

Me fijé en el trayecto desde el vértice rojo a los otros dos vértices. Luego, hice los mismos trayectos desde el vértice azul para encontrar los vértices y dibujar el triángulo.

