

EJERCICIOS

1 Identifica las líneas de simetría en las señales de tránsito.

(a)



(b)



(c)




(d)



2 Explora las líneas de simetría en los triángulos.

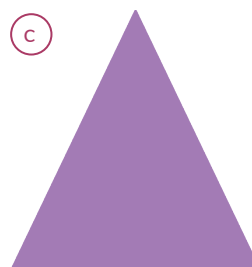
(a)



(b)




(c)

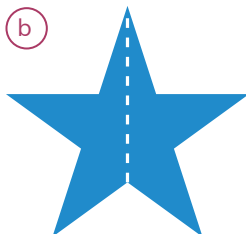


3 Identifica si las líneas marcadas son de simetría.


(a)



(b)



(c)



(d)



4 ¿En qué rectángulos la línea marcada es de simetría?

(A)



(B)



(C)

