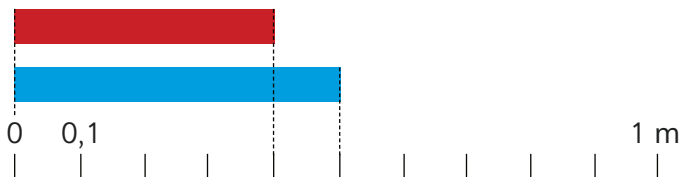


Comparación y orden de números decimales

- 1 Un trozo de cinta roja mide 0,4 m y uno de cinta azul mide 0,5 m. ¿Cuál trozo de cinta es el más largo?



¿Cuál número está formado por más decimos?

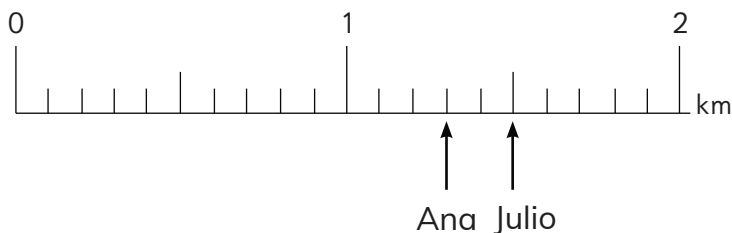


Para comparar números decimales debes hacerlo considerando los dígitos que ocupan la misma posición.

Unidad décimo

1	$\frac{1}{10}$
0	4
0	5

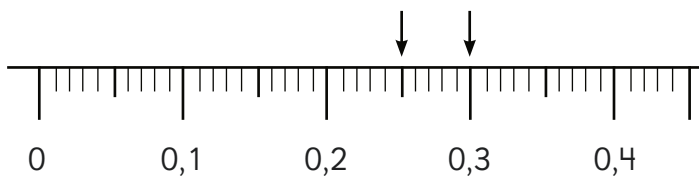
- 2 Ana caminó 1,3 km y Julio 1,5 km. ¿Quién caminó más?



En una recta numérica un número ubicado a la derecha de otro es mayor.



- 3 ¿Qué número es mayor, 0,25 o 0,3?



Unidad décimo centésimo

1	$\frac{1}{10}$	$\frac{1}{100}$
0	2	5
0	3	

EJERCITA

- 1 ¿Cuál número es mayor?

a 0,3 o 0,4

d 0,6 o 0,43

g 1,2 o 0,6

b 0,8 o 0,6

e 2,12 o 1,98

h 1,98 o 1,9

c 0 o 1,9

f 0,2 o 0,13

i 1,52 o 1,7