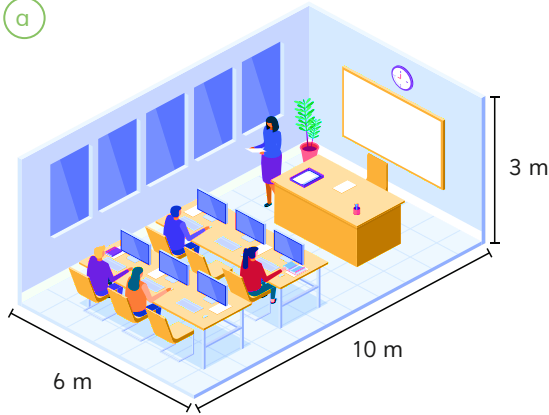




Para medir el volumen de objetos más grandes podemos elegir cubos con aristas más grandes. Por ejemplo, se pueden usar cubos de 1 m de arista.

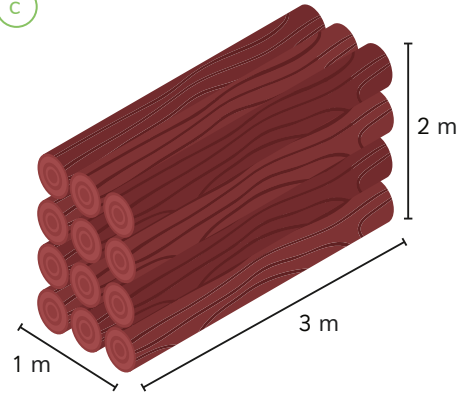
- 6 Estima el volumen en cada caso usando unidades de cubo de 1 m de arista.

(a)



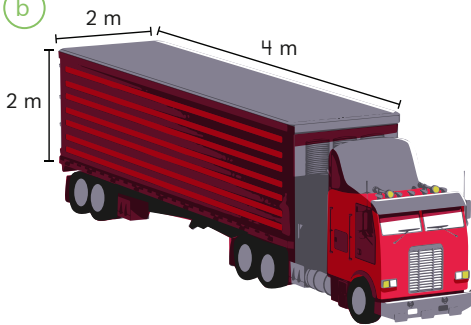
El volumen es unidades de cubo de arista 1 m.

(c)



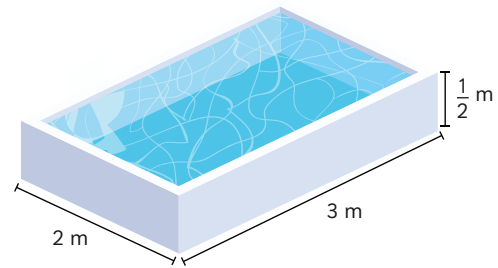
El volumen es aproximadamente unidades de cubo de arista 1 m.

(b)



El volumen es unidades de cubo de arista 1 m.

(d)



El volumen es aproximadamente unidades de cubo de arista 1 m.

- 7 Indica si usarías cubos de arista de 1 cm o cubos de arista de 1 m para estimar el volumen de los siguientes objetos:

(a) Un edificio.

(c) Un bus.

(b) Un libro.

(d) Una mochila.