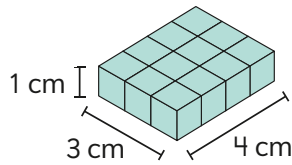
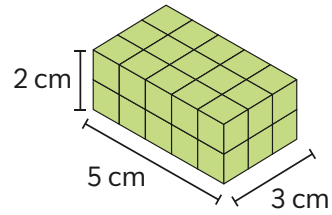


- 3 Calcula el volumen, en unidades de cubo de 1 cm de arista, de las siguientes figuras 3D:

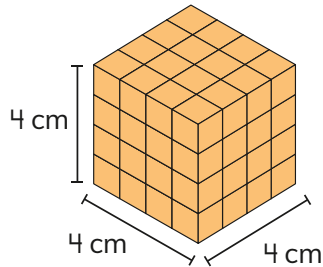
a



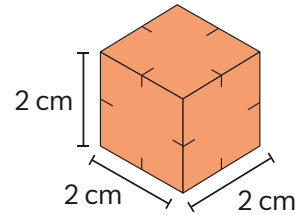
c



b

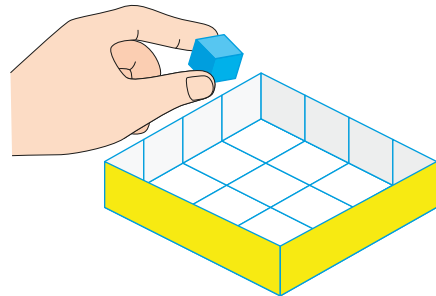
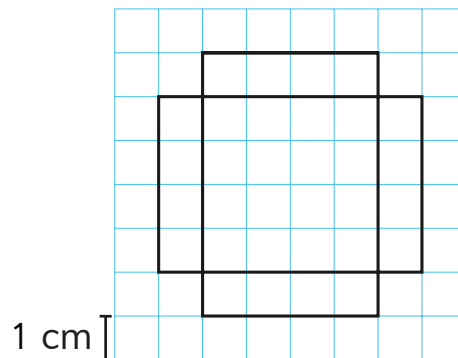


d



- 4 Gaspar y Sofía dibujaron redes en su cuaderno y construyeron cajas sin tapa. ¿Cuántos cubos de 1 cm de arista caben en cada caja?

Gaspar



Sofía

