

Repaso

- 1** El 18 de septiembre se celebran las Fiestas Patrias en Chile. En la familia de Ema votaron por el plato típico chileno que prepararán.

- A.** Completa la tabla con el número de personas que escogió cada plato típico chileno.

Elección de platos típicos chilenos

Plato típico	Número de personas	
Empanadas de pino		
Pastel de choclo		
Cazuela		
Asado		

- B.** Completa el pictograma usando ○ para representar la elección de los platos típicos.


Elección de platos típicos chilenos

Empanadas de pino	Pastel de choclo	Cazuela	Asado

- C.** ¿Cuál es el plato típico chileno más elegido por la familia de Ema?
- D.** ¿Cuántas personas votaron por el plato típico?
- E.** ¿Cuántas personas más prefieren la cazuela que el pastel de choclo?

2 ¿Cuánto mide cada objeto?

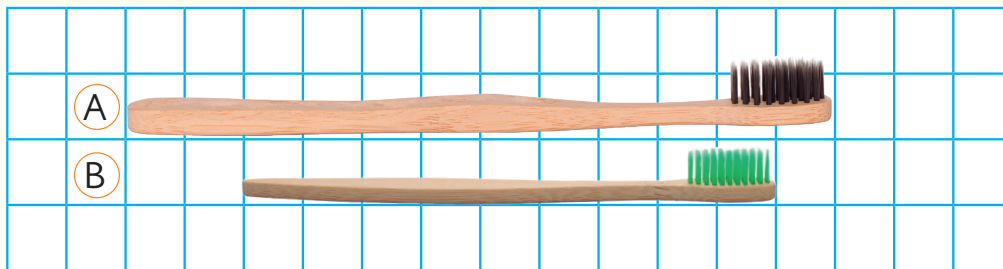
A.



Largo: clips.

Ancho: clips.

B.



El cepillo A mide: cuadrados.

El cepillo B mide: cuadrados.

3 ¿Cuál balde puede contener más cantidad de agua? Encierra.





vasos.





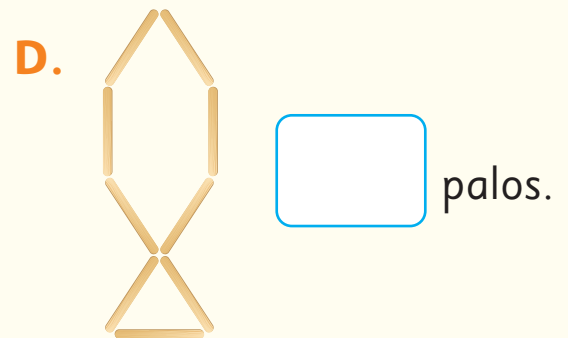



vasos.





vasos.

4 ¿Cuántos palos se utilizaron en cada figura?



5 Une puntos y dibuja la misma figura.

