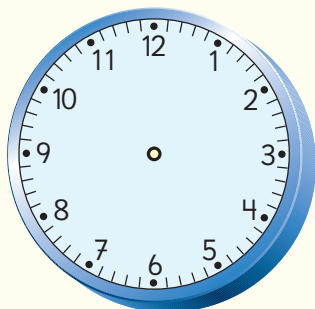
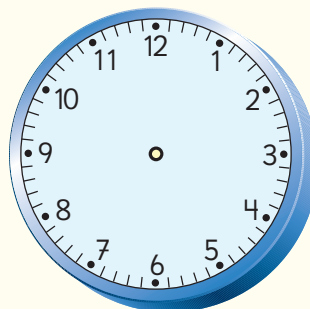


Repaso

- 1 Representa en los relojes las horas en que comienza cada recreo.



Primer recreo



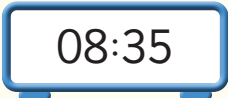
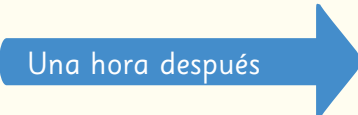


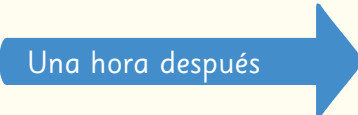

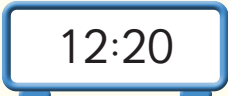
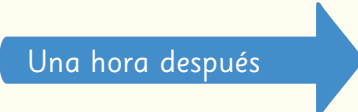

Segundo recreo




- 2 El 3° B fue de visita al museo. Salieron a las 10:00 h del colegio y llegaron al museo a las 10:30 h. Terminaron la visita a las 12:00 h y llegaron de vuelta al colegio a las 12:30 h.

- a) ¿Cuánto tiempo estuvieron fuera del colegio?
- b) ¿Cuánto tiempo estuvieron en el museo?
- c) ¿Cuánto tiempo les tomó llegar desde el colegio al museo?
¿Y del museo al colegio?

- 3 Completa las horas según corresponda.

- a)   
- b)   
- c)   


- 4 ¿Cuántas galletas hay en total?



Expresión matemática:

Respuesta:

- 5 Gabriel preparó un semillero. En cada espacio puso 3 semillas. El semillero tenía 9 espacios para plantar. ¿Cuántas semillas puso en total?



Expresión matemática:

Respuesta:

- 6 En la feria compré 4 bolsitas con nueces. En cada bolsita venían 5 nueces. ¿Cuántas nueces compré en total?

Expresión matemática:

Respuesta:

- 7 Completa la tabla con los resultados de las multiplicaciones.

·	5	6	7	8	9
5					
6					
7					
8					
9					

8 Explica cómo calcular $13 \cdot 8$.

9 Divide.

a) $54 : 9 =$

c) $40 : 8 =$

e) $42 : 7 =$

b) $18 : 2 =$

d) $27 : 3 =$

f) $16 : 4 =$

10 Matías ordenó sus 12 figuritas coleccionables en 3 repisas.
En cada repisa puso la misma cantidad de figuritas.
¿Cuántas figuritas puso en cada repisa?

Expresión matemática:

Respuesta:

11 Divide.

a) $5 : 1 =$

c) $2 : 2 =$

e) $15 : 15 =$

b) $0 : 9 =$

d) $8 : 1 =$

f) $0 : 13 =$