

Repaso

1 Dibuja una línea de:

- A. 3 cm
- B. 5 cm
- C. 10 cm

2 Mide las líneas y responde.



A. ¿Cuál línea es más larga?, ¿por cuánto?

La línea verde es más larga. Por 2 cm.

B. Si las líneas se unen formando una sola, ¿cuál es su longitud?

8 cm.

3 Observa el pictograma y responde.

Pasatiempo favorito		
	○	
	○	○
○	○	○
○	○	○
Leer	Dibujar	Dormir
○ = 2 estudiantes		

A. ¿Cuál es el pasatiempo favorito?

Dibujar

B. ¿Cuántos estudiantes prefieren leer?

4 estudiantes

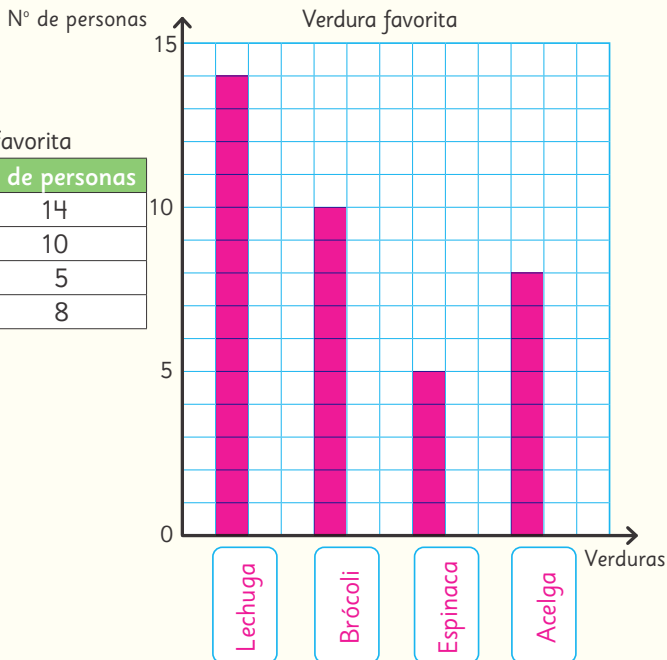
C. ¿Cuántos estudiantes más prefieren dibujar que dormir?

2 estudiantes más


- 4 Completa el gráfico de barras con la información de la tabla.

Verdura favorita


Verduras	Nº de personas
Lechuga	14
Brócoli	10
Espinaca	5
Acelga	8



- 5 Observa las balanzas y escribe las frases numéricas.



$$7 = 3 + 4$$



$$9 > 2 + 5$$

6 Completa con =, > o <.

A. $15 > 8 + 4$

B. $12 = 7 + 5$

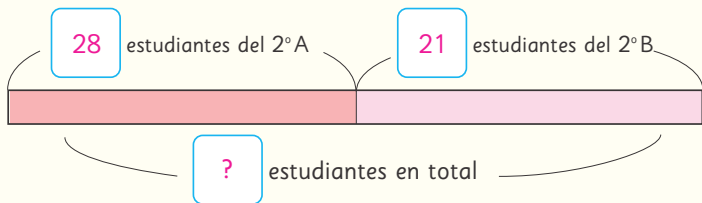
7 Completa con un número.

A. $15 = 14 + 1$

B. $9 = 6 + 3$

8 En el 2º A hay 28 estudiantes y en el 2º B hay 21.

A. ¿Cuántos estudiantes hay entre el 2º A y el 2º B?



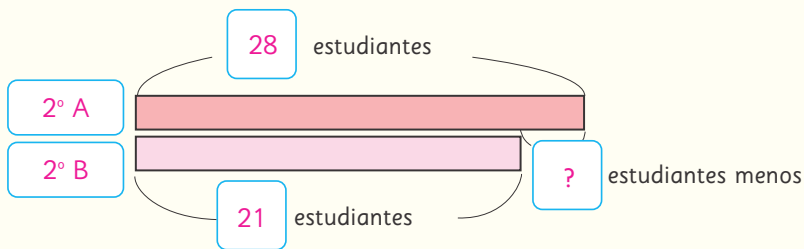
Expresión matemática:

$$28 + 21$$

Respuesta:

49 estudiantes.

B. ¿Cuántos estudiantes menos que en el 2º A hay en el 2º B?



Expresión matemática:

$$28 - 21$$

Respuesta:

7 estudiantes menos.