


# Repaso

1 Dibuja una línea de:

- A. 3 cm
- B. 5 cm
- C. 10 cm

2 Mide las líneas y responde.



A. ¿Cuál línea es más larga?, ¿por cuánto?

B. Si las líneas se unen formando una sola, ¿cuál es su longitud?

3 Observa el pictograma y responde.

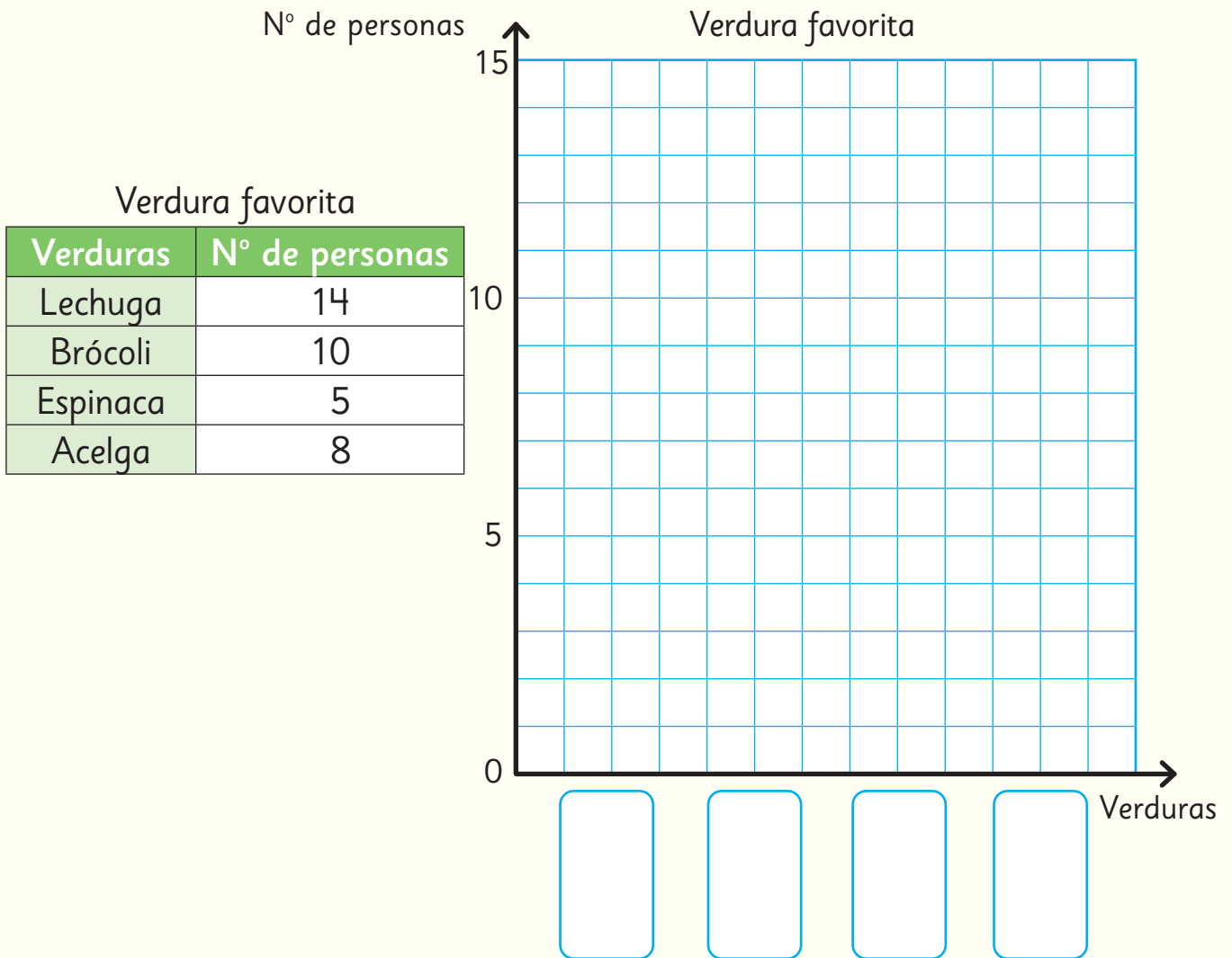
Pasatiempo favorito		
	○	
	○	○
○	○	○
○	○	○
Leer	Dibujar	Dormir
○ = 2 estudiantes		

A. ¿Cuál es el pasatiempo favorito?


B. ¿Cuántos estudiantes prefieren leer?


C. ¿Cuántos estudiantes más prefieren dibujar que dormir?

4 Completa el gráfico de barras con la información de la tabla.



5 Observa las balanzas y escribe las frases numéricas.





6 Completa con =, > o <.

A.  $15 \bigcirc 8 + 4$

B.  $12 \bigcirc 7 + 5$

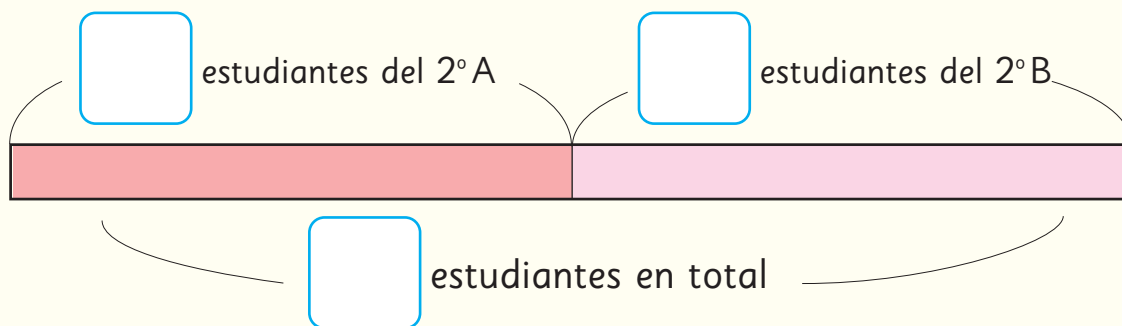
7 Completa con un número.

A.  $15 = \square + 1$

B.  $\square = 6 + 3$

8 En el 2ºA hay 28 estudiantes y en el 2ºB hay 21.

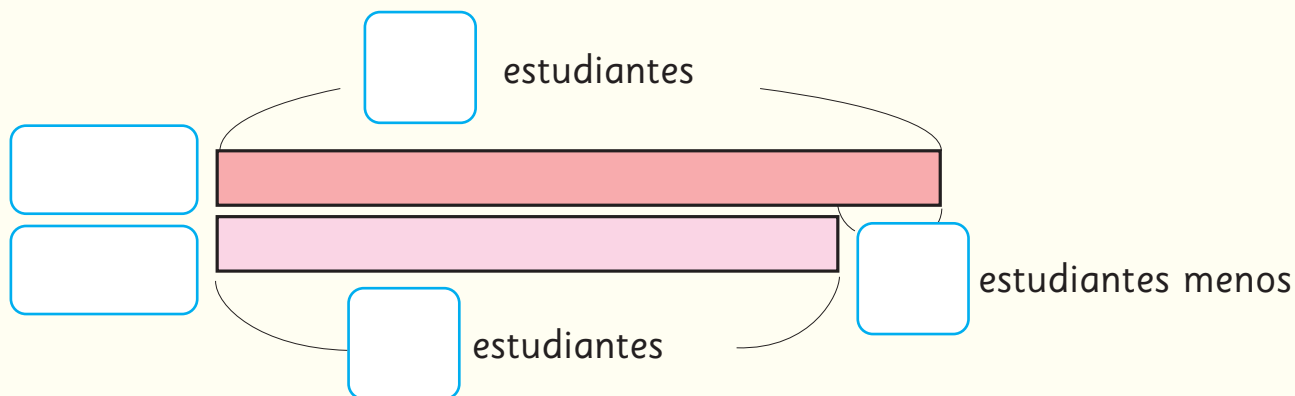
A. ¿Cuántos estudiantes hay entre el 2ºA y el 2ºB?



Expresión matemática:

Respuesta:

B. ¿Cuántos estudiantes menos que en el 2ºA hay en el 2ºB?



Expresión matemática:

Respuesta: