

# Repaso

1 ¿Cuál número es mayor? Marca.

A. 

67
----

63
----

B. 

47
----

41
----

C. 

84
----

76
----

2 ¿Cuál número es menor? Marca.

A. 

37
----

27
----

B. 

55
----

45
----

C. 

93
----

27
----

3 Escribe el número que corresponda.

A. Noventa y cinco: 

--

C. Treinta y ocho: 


--

B. Cuarenta y tres: 



--

D. Cien: 

--



4 ¿Cuántos  hay? Escribe el número.

A.

Decenas	Unidades
	

--	--

B.

Decenas	Unidades
	

--	--

- 5** En un bus viajan 23 personas y luego, en un paradero suben 15 personas más.  
¿Cuántas personas van en el bus?

Expresión matemática:

Respuesta:

- 6** En una panadería se fabrican 38 pasteles. Si se venden 25, ¿cuántos pasteles quedan?

Expresión matemática:

Respuesta:

- 7** Suma usando la forma vertical.

**A.**  $4 + 23$

+		

**B.**  $12 + 7$

+		

**C.**  $76 + 21$

+		

**D.**  $15 + 83$

+		

- 8** En una caja hay 12 osos de peluche y 7 autos.  
¿Cuántos juguetes hay en la caja?

Expresión matemática:

Respuesta:

- 9** Un tarro de bloques encajables tiene 57 piezas.  
Se le agregan 12 piezas más. ¿Cuántas piezas hay en el tarro?

- 10**  Suma.

**A.**  $24 + 23$       **B.**  $35 + 61$       **C.**  $56 + 22$       **D.**  $81 + 18$

- 11** Calcula usando la forma vertical.

**A.**  $54 - 13$       **B.**  $25 - 11$       **C.**  $76 - 22$       **D.**  $83 - 33$

—		

—		

—		

—		

- 12** Sami lleva 35 chocolates a la escuela. Comparte 12 con sus compañeros. ¿Cuántos chocolates le quedan?

- 13** Gaspar tiene 27 lápices de colores, 14 son de cera y los otros son de madera. ¿Cuántos lápices de madera tiene?

- 14** Resta.

**A.**  $14 - 13 =$

**B.**  $25 - 11 =$

**C.**  $76 - 22 =$

**D.**  $83 - 33 =$