

# Repaso

- 1 El 18 de septiembre se celebran las Fiestas Patrias en Chile. En la familia de Ema votaron por el plato típico chileno que prepararán.

- A. Completa la tabla con el número de personas que escogió cada plato típico chileno.

Elección de platos típicos chilenos

Plato típico	Número de personas	
Empanadas de pino		5
Pastel de choclo		3
Cazuela		5
Asado		6

- B. Completa el pictograma usando ○ para representar la elección de los platos típicos.

Elección de platos típicos chilenos

			○
○		○	○
○		○	○
○	○	○	○
○	○	○	○
○	○	○	○
Empanadas de pino	Pastel de choclo	Cazuela	Asado

- C. ¿Cuál es el plato típico chileno más elegido por la familia de Ema? **El asado.**
- D. ¿Cuántas personas votaron por el plato típico? **19 personas.**
- E. ¿Cuántas personas más prefieren la cazuela que el pastel de choclo? **2 personas más.**

2 ¿Cuánto mide cada objeto?

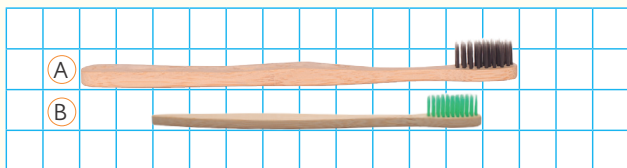
A.



Largo: 4 clips.

Ancho: 3 clips.

B.



El cepillo A mide: 12 cuadrados.

El cepillo B mide: 9 cuadrados.

3 ¿Cuál balde puede contener más cantidad de agua? Encierra.



8

vasos.



5

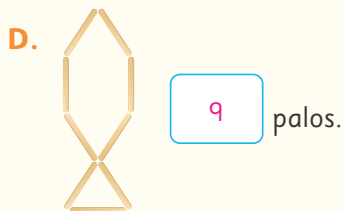

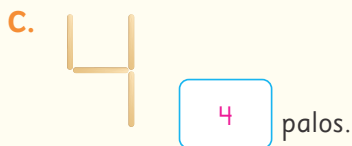

vasos.



15

vasos.

4 ¿Cuántos palos se utilizaron en cada figura?



5 Une puntos y dibuja la misma figura.

