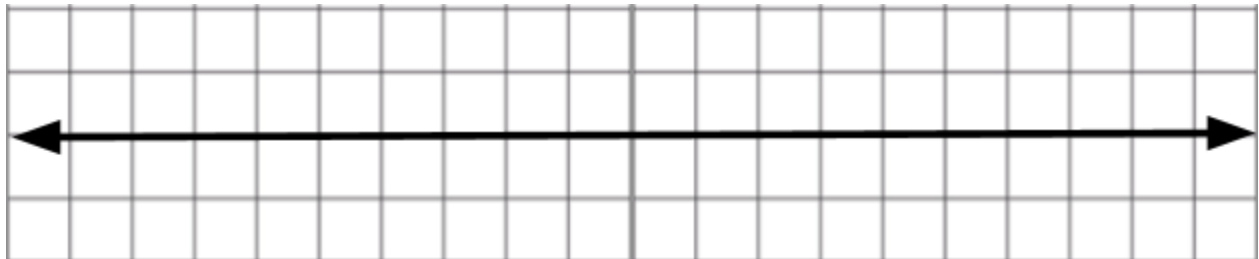


Hoja del estudiante
¿Cuál es el orden de los competidores?

Nombre:	Curso:	Fecha:
----------------	---------------	---------------

1. Construye una recta numérica que permita ubicar los números dados a continuación:

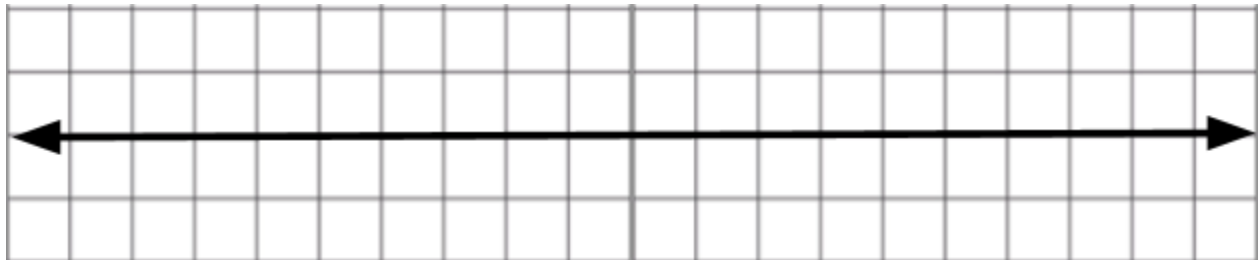
589	579	639
------------	------------	------------



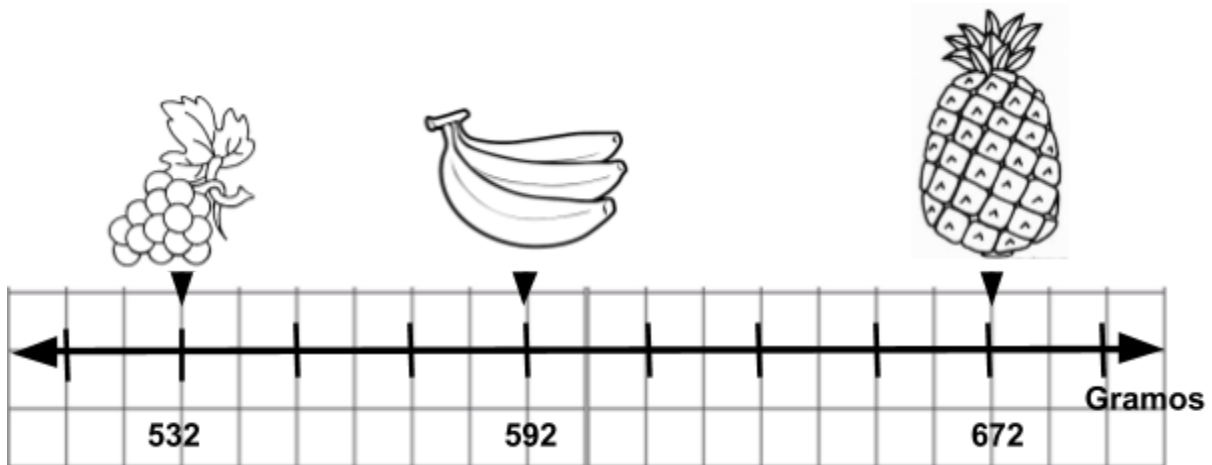
2. Si en la recta anterior debes agregar los números 604 y 664, ¿cambiarías su graduación?, ¿por qué?

3. Construye una recta numérica que permita ubicar todos los números considerados en las actividades 1 y 2.

589	604	579	639	664
-----	-----	-----	-----	-----



4. Observa la recta numérica mostrada a continuación con las masas de las frutas de la imagen, y luego responde.



a) ¿Cuál fruta masa más? ¿Por qué?

b) ¿Cuántos gramos de diferencia hay entre los plátanos y la uva?
