

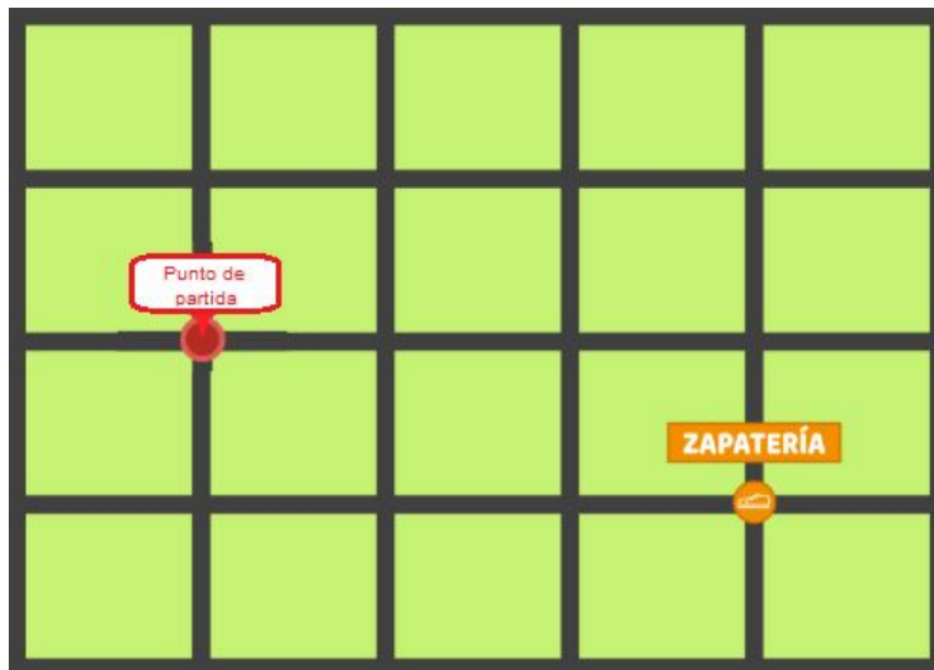
Hoja del estudiante
Ubicándonos en la ciudad

Nombre:

Curso:

Fecha:

1. Con lápices de diferente color, dibuja tres caminos de distinta longitud para ir desde el punto de partida hasta la zapatería. Escribe el número de cuadras que corresponde a cada uno.

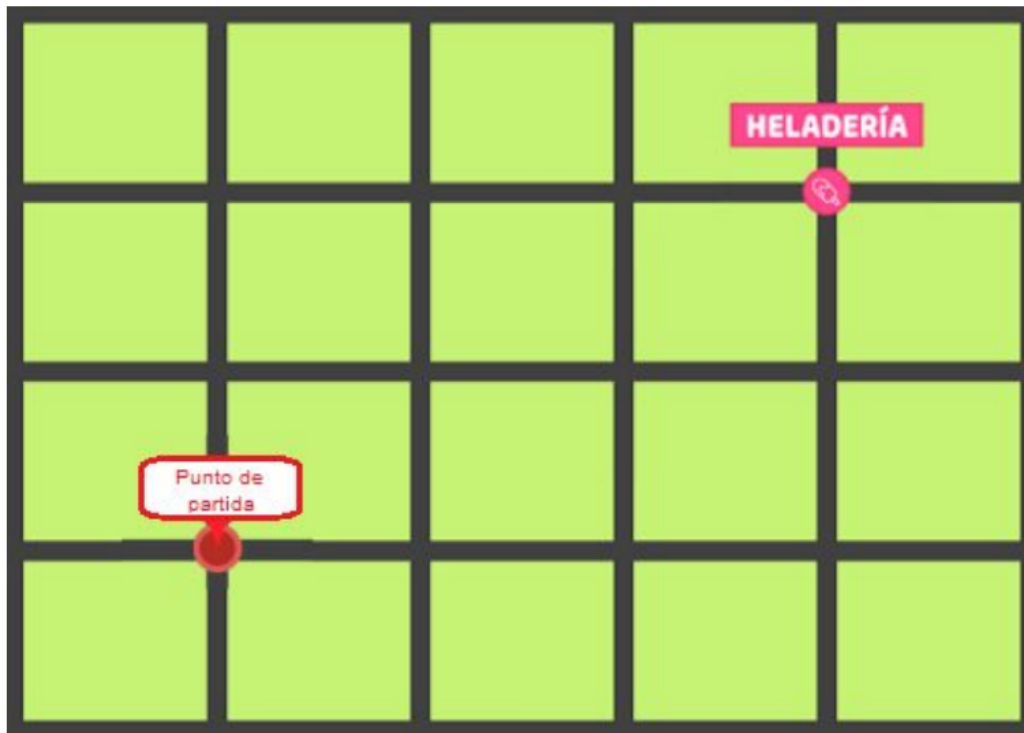


Camino 1: cuadras.

Camino 2: cuadras.

Camino 3: cuadras.


2. Con lápices de distinto color, dibuja un camino que sea lo más corto posible para ir desde el punto de partida hasta la heladería. Luego, dibuja otro que sea más largo que el anterior. Escribe el número de cuadras que corresponde a cada uno.



Camino corto: cuadras.

Camino largo: cuadras.

3. Observa el siguiente mapa y realiza las actividades.



- Dibuja tres caminos que sean de la longitud más corta posible para ir desde el punto de partida hasta la heladería.
- Escribe, usando las iniciales de los puntos cardinales, los caminos que dibujaste en el mapa anterior. Recuerda que debes escribir cada inicial el número de veces que corresponda a la cantidad de cuadras que caminas en una misma dirección. Luego, compara tus respuestas con las de tus compañeros.

Camino 1:

Camino 2:

Camino 3:

- Escribe, usando las iniciales de los puntos cardinales, un camino que sea de la longitud más corta posible y que te sirva para volver desde la heladería al punto de partida.

- Describe qué diferencias hay entre la escritura de un camino de ida y la escritura del camino de regreso. Luego, compara tus respuestas con las de tus compañeros.
